

# PENJUMLAHAN

Selesaikan operasi penjumlahan di bawah ini. Gunting dan tempelkanlah jawaban yang benar pada kotak jawaban!



1



2




3




+



=




+




=



+



=



+



=



5

4

3

2