



Mengenal Mata Uang

Perhatikan harga makanan berikut ini!




Es krim
Rp4.000,00



Kue cokelat
Rp3.000,00



Kue donat
Rp2.000,00



Piza
Rp5.000,00

1. Makanan yang paling murah adalah ...
2. Makanan yang paling mahal adalah ...
3. Makanan yang lebih mahal dari es krim adalah ...
4. Urutan makanan dari yang termurah adalah ...
5. Urutan makanan dari yang termahal adalah ...


Perhatikan harga barang berikut ini!



Krayon
Rp8.000,00



Gunting
Rp6.000,00



Kotak pensil
Rp10.000,00



Spidol
Rp3.000,00

1. Barang yang paling murah adalah ...
2. Barang yang paling mahal adalah ...
3. Barang yang lebih murah dari krayon adalah ... dan ...
4. Urutan makanan dari yang termurah adalah ...
5. Urutan makanan dari yang termahal adalah ...



Mengenal Mata Uang

Perhatikan harga barang berikut ini!



Odol
Rp12.000,00



Sampo
Rp19.000,00



Sabun cair
Rp22.000,00



Sabun padat
Rp5.000,00

1. Sebutkan 2 barang yang dapat dibeli Yusuf jika ia membawa uang Rp20.000,00!
2. Hannah membeli odol dan sabun cair menggunakan selembar uang Rp50.000,00. Berapa uang kembalian yang diterima Hannah?


Perhatikan harga barang berikut ini!




1 kg anggur
Rp48.000,00



1 kg nanas
Rp21.000,00



1 kg stroberi
Rp27.000,00



1 kg apel
Rp35.000,00

1. Jika uang Yahya sebesar Rp25.000,00 buah apa yang bisa dibeli Yahya?
2. Berapa yang harus dibayar oleh Ferha jika ia ingin membeli 1 kg buah stroberi dan 1 kg buah anggur?