




## Lembar Kerja

# Bangun Datar

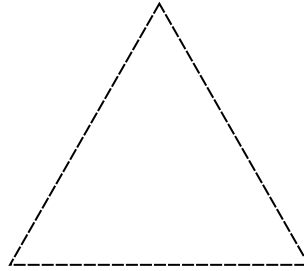


Tebalkan ruas garis pada bangun datar berikut, kemudian hitunglah berapa banyak sisi, sudut, dan titik sudutnya!



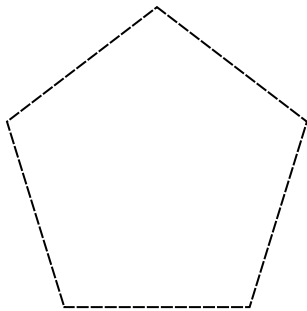
**PERSEGI**

Banyak sisi :  
Banyak sudut :  
Banyak titik sudut :



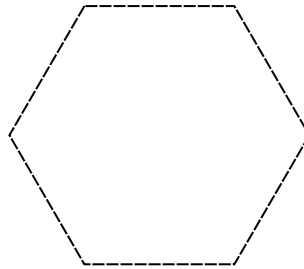
**SEGITIGA**

Banyak sisi :  
Banyak sudut :  
Banyak titik sudut :



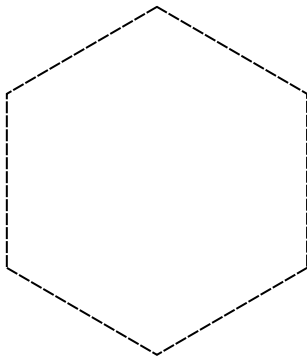
**SEGI LIMA**

Banyak sisi :  
Banyak sudut :  
Banyak titik sudut :



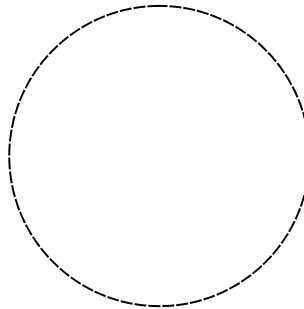
**SEGI ENAM**

Banyak sisi :  
Banyak sudut :  
Banyak titik sudut :



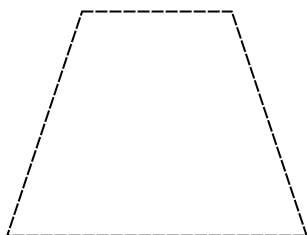
**SEGI DELAPAN**

Banyak sisi :  
Banyak sudut :  
Banyak titik sudut :



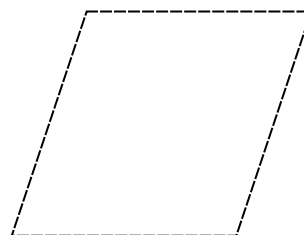
**LINGKARAN**

Banyak sisi :  
Banyak sudut :  
Banyak titik sudut :



**TRAPESIUM**

Banyak sisi :  
Banyak sudut :  
Banyak titik sudut :



**JAJAR GENJANG**

Banyak sisi :  
Banyak sudut :  
Banyak titik sudut :